



.....	1
.....	1
.....	1
.....	1
.....	3

.....20

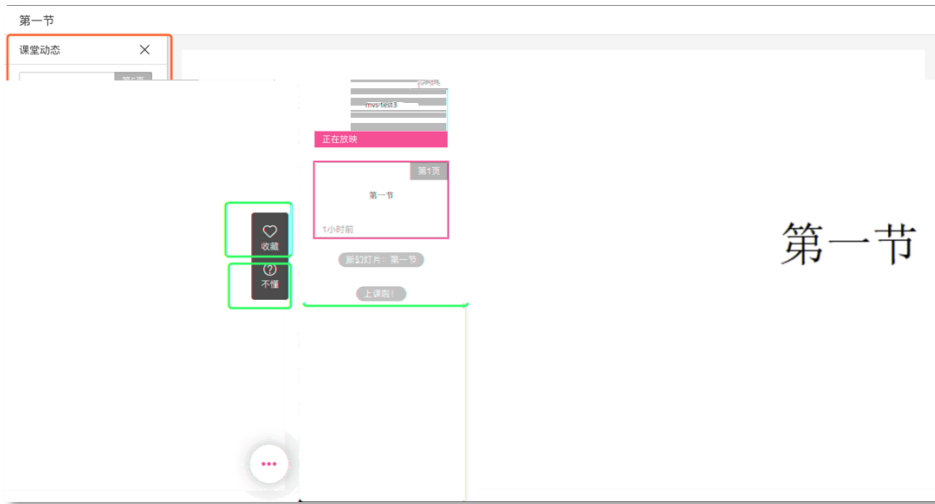
.....23

.....23

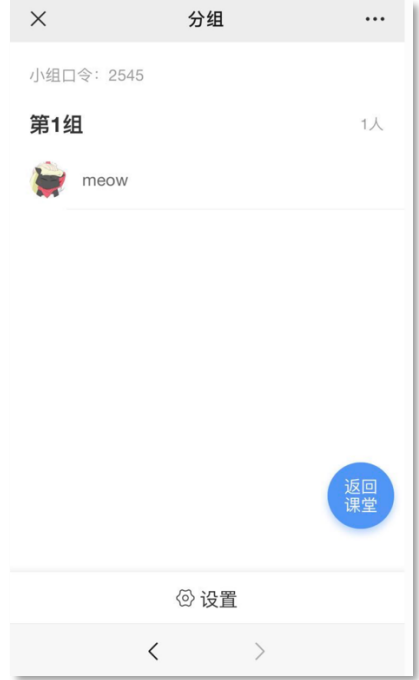
.....31

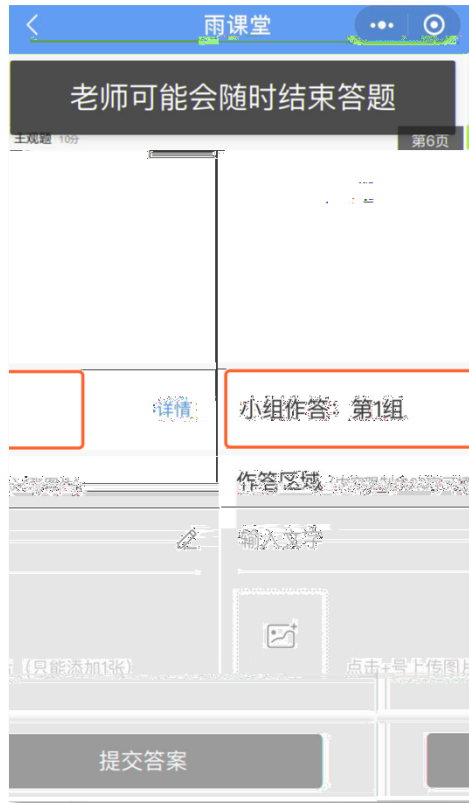














测试课程

全部 PPT 习题 试卷 +

老师已开启弹幕

第16页

3小时前 不懂 收藏

新幻灯片：第一节

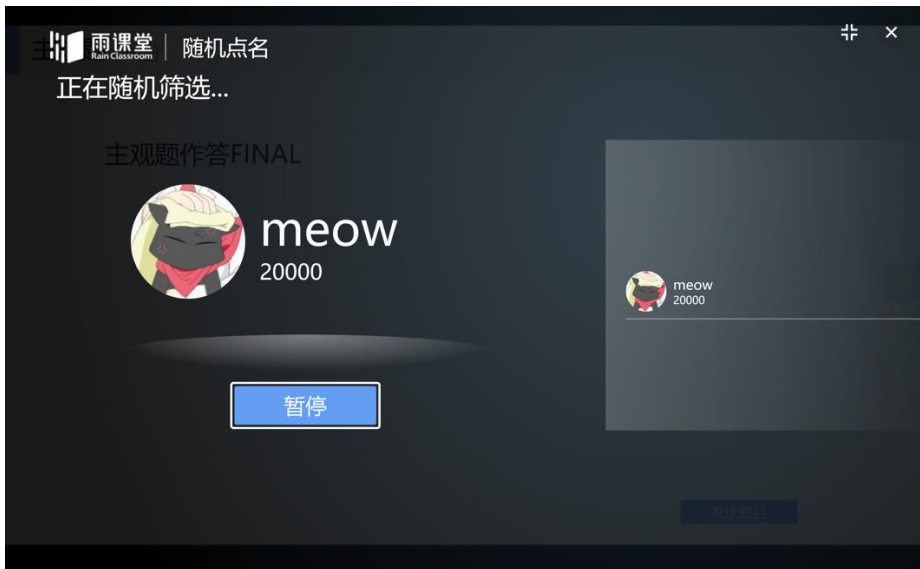
幻灯片 第一节 结束放映

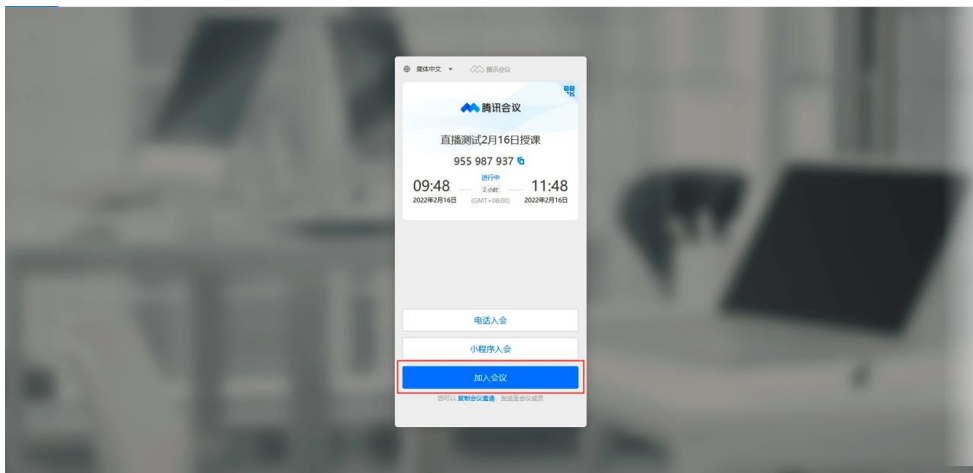
Hi, 你有新的课堂习题

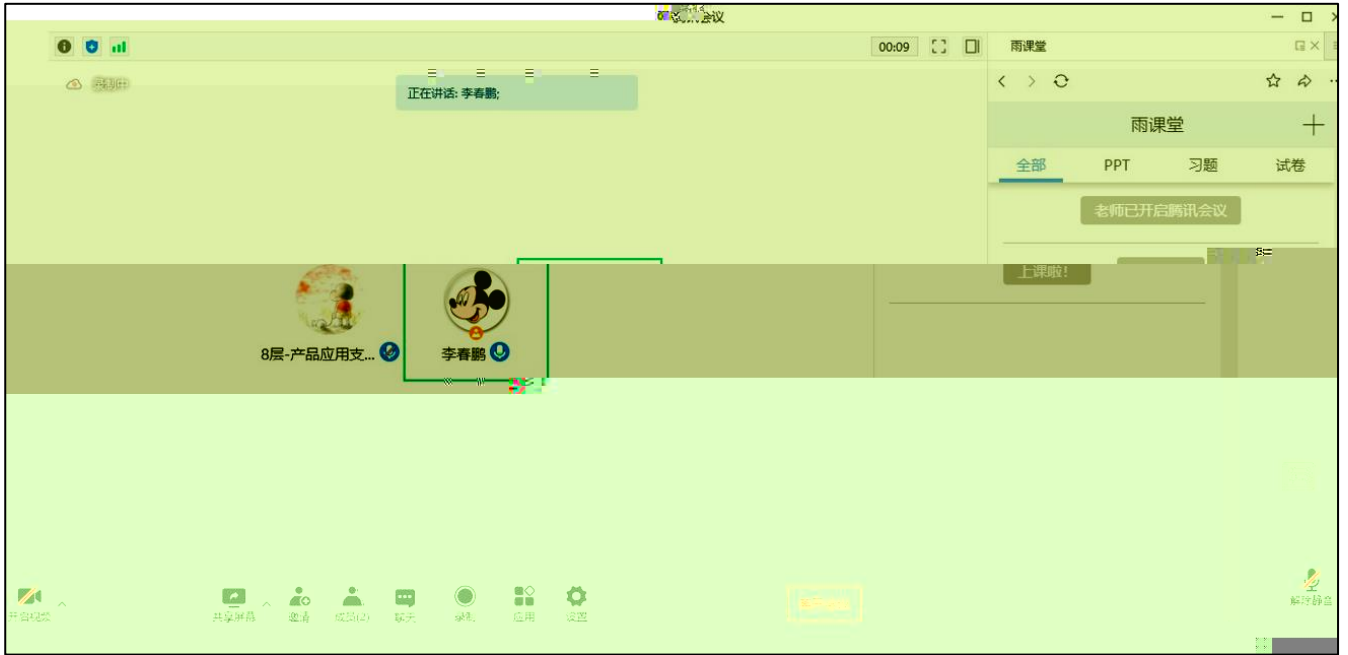
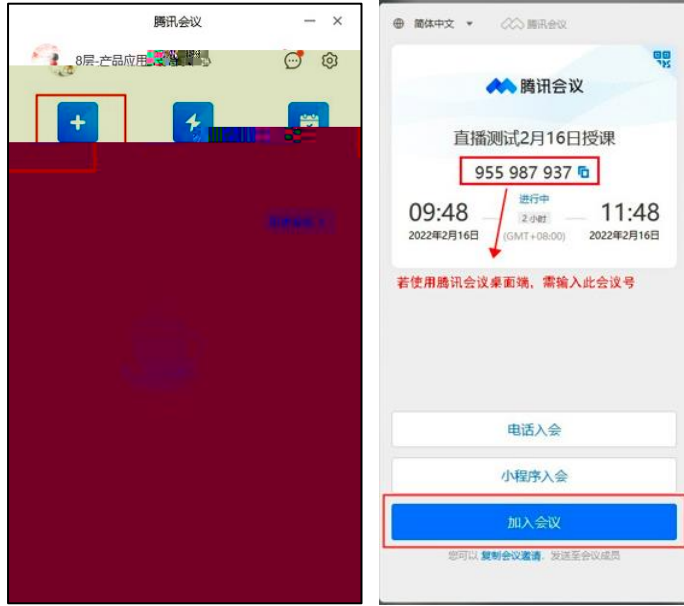
第17页

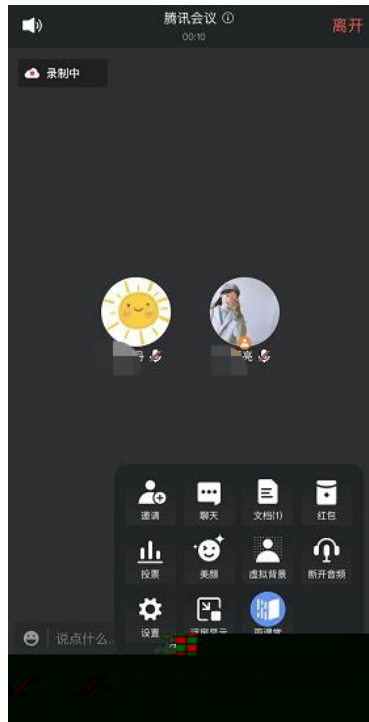
弹 点击发弹幕 ...

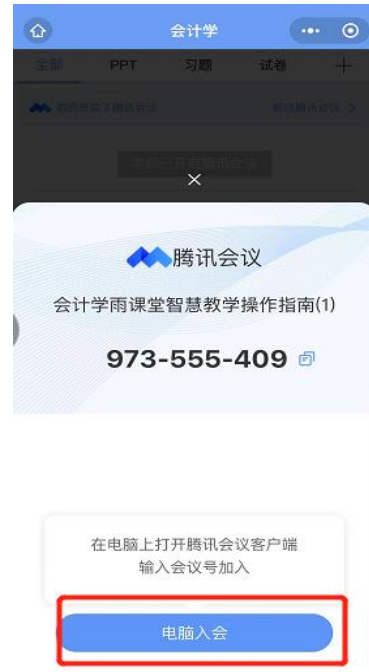
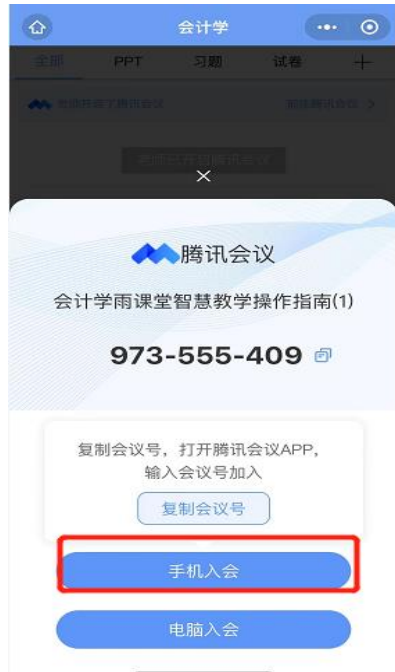
3小时前 已完成

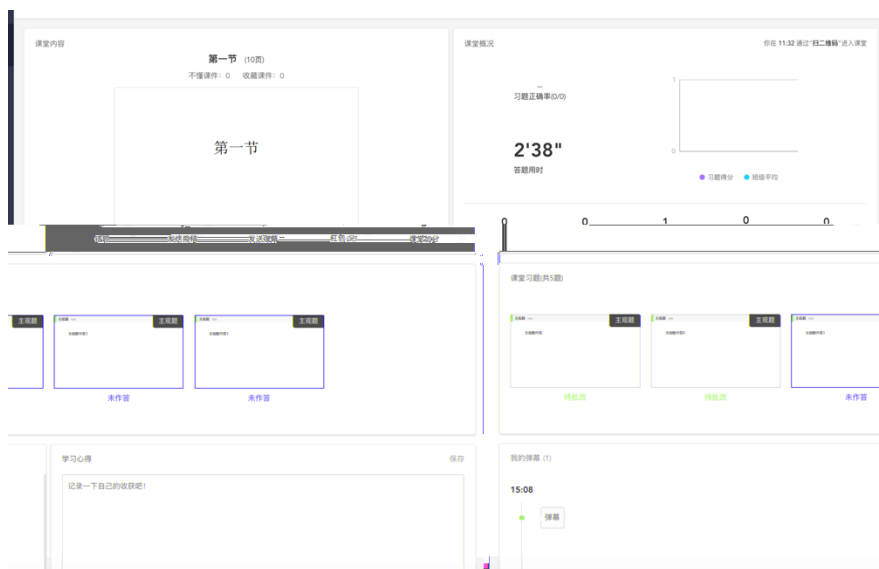
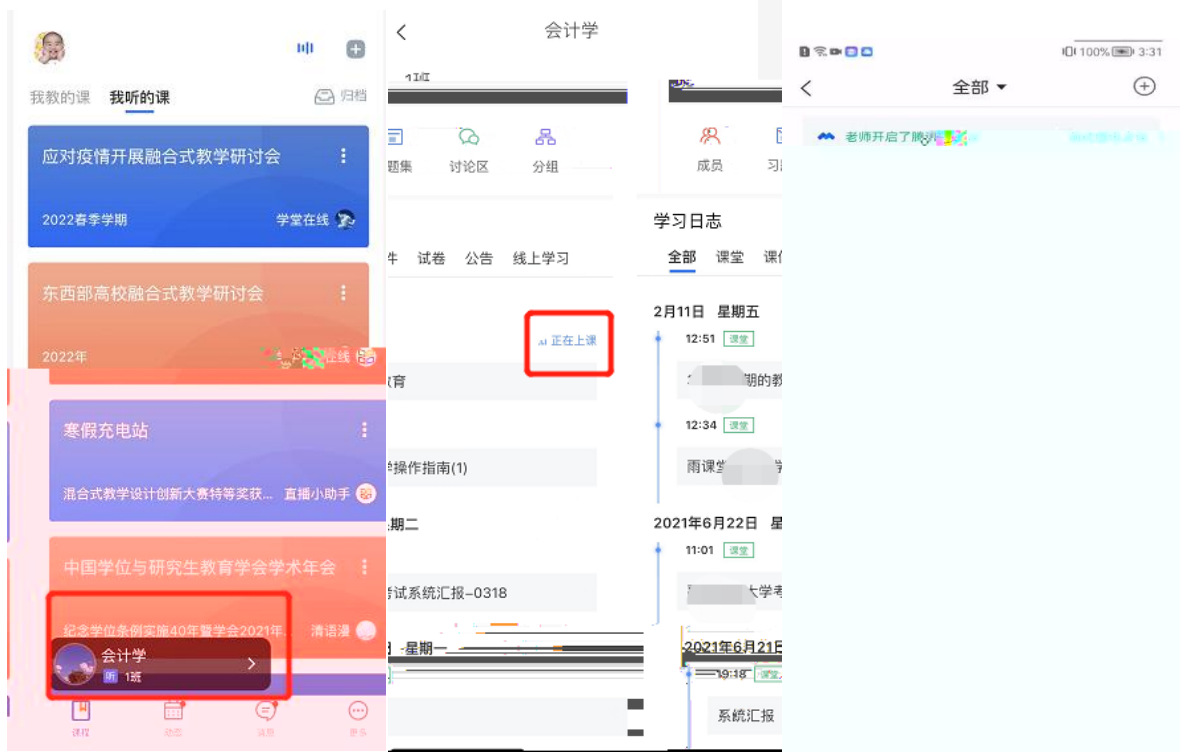












< 返回 | 5.3 层次分析法作业 5.4内容分析法 - 直播回放

00:30 30:00 倍速

动态

- 幻灯片 5.3 层次分析法 ...
- 幻灯片 5.4 内容分...

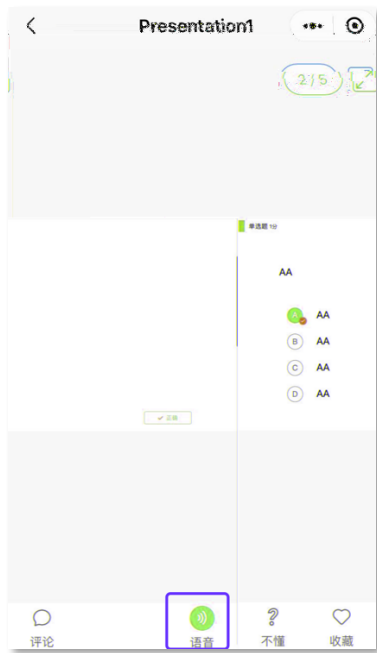
1 30'00"

2 30'00"

3 13'24"

5.3 层次分析法

- 层次分析法的概念
- 层次分析法的原理
- 层次分析法的步骤





作业提交提醒
4月14日 23:49
新作业提醒!

班级名称: 测试班

作业科目: **基础版测试**

作业详情: **111**

作业截止日期: **未指定**

备注: **点击查看新作业, 记得按时提交哦!**

[查看详情](#)

作业提交提醒
新作业提醒!

班级名称: meijia测试资源

作业科目: **meijia测试资源**

作业详情: **测试试卷**

作业截止日期: **2020-05-25 09:00**

备注: **本次考试为在线监考, 需要在支持摄像头的电脑端参加考试。首次参加需上传证件照片, 请提前做好准备, 记得按时交卷哦!**

[查看详情](#)

2020春-清华大学



成员



习题集



讨论区



分组

学习日志

全部

课堂

课件

试卷

公告

4月28日 星期二

21:00 试卷

电路原理 第九周课后测试

9:36 公告

电路原理第九周课后测试将于今日21:00开始

8:48 课堂

电路原理第九周课程

考试系统

答题计时 00:00:12 去交卷 (0/1)

1. 主观题 (10分)

一道主观题就可以一直答一直答

请输入内容

+

可上传9张图片

去交卷

答题详情

总分 (满分100.0) 91.0分

客观题 得分: 40.0/40.0

1 2 3 4 5
6

主观题 得分: 51.0/60.0

7 8 9
10.0 28.0 13.0

查看试卷

电路原理
于歆杰 2020春-清华大学

课程等级 学习日志 讨论区 分组

日志 课堂 课件 试卷 公告

发布时间: 2020-04-28/21:00/周二

电路原理 第九周课后测试
满分: 100分 | 共9题

发布时间: 2020-04-28/19:36/周二

电路原理第九周课后测试将于今日21:00开始
附件数量: 1

课堂 开课时间: 2020-04-28/18:48/周二


电路原理第九周课程

返回旧版

身份校验

1 上传证件照 2 拍照认证

本次考试为在线监考，
请先上传证件照，以便老师核实是否为本人考试



今天也要加油鸭

下一步

身份校验

上传证件照 拍照认证

请打开摄像头，由系统检测摄像头是否可用，并手动点击拍照
并确保：①光线均匀 ②背景无干扰，且没有其他人出现在镜头内



今天也要加油鸭



拍照

上一步 进入考试

在线考试-监考 考试剩余: 01:44:22 交卷

展开 >>
0 / 19 题

1

1. 单选题 (1分)

One worker pushes a wheelbarrow 5.0 m along a level surface, exerting a constant horizontal force of 50.0 N. If a frictional force of 43 N acts on the wheelbarrow in a direction opposite to that of the worker, what net work is done on the wheelbarrow? _____

请稍候引导手变化
自然手势

在线考试-监考 考试剩余: 01:44:22 交卷

展开 >>
0 / 19 题

1

2

3

4

5

6

7

8

1. 单选题 (1分)

One worker pushes a wheelbarrow 5.0 m along a level surface, exerting a constant horizontal force of 50.0 N. If a frictional force of 43 N acts on the wheelbarrow in a direction opposite to that of the worker, what net work is done on the wheelbarrow? _____

(A) shorten
(B) shorting
(C) shortened

2. 单选题 (1分)

我国的国民经济随着改革开放的不断深入而得到了迅速的发展,这说明0

(A) 生产关系的任何变化都会促进生产力的发展
(B) 生产关系的变化决定着生产力的发展
(C) 生产关系对生产力具有反作用

系统监测到你切出了考试页面
我们会将此行为报告你的老师

继续考试

请稍候背景无变化
且没有其他人出现在镜头内

